



ESCOLA MUNICIPAL GERALDA CHAVES

TIRADENTES PROFESSOR: MARIA FERNANDA

**COMPONENTES CURRICULARES: LÍNGUA PORTUGUESA, MATEMÁTICA E
PSICOMOTRICIDADE**

TURMA: SALA DE RECURSOS – 1º ANO

PERÍODO DE REALIZAÇÃO: 16/08 A 19/08

ALUNO (A): _____

Senhores pais e responsáveis

No roteiro a seguir estão as atividades e todas as orientações para sua execução. Tudo está descrito de forma simples. Mas se houver alguma dúvida podem entrar em contato comigo pelo *Whatzapp*, estarei à disposição para ajudar.

Seu filho deverá realizar todas as atividades **nas folhas impressas**. Cuidem-se e cuidem de sua família. Em breve tudo estará bem.

Um abraço,

Professora Maria Fernanda

APRESENTAÇÃO DO PROFESSOR	OLÁ QUERIDO (A) ALUNO (A)! VOCÊ DEVERÁ OUVIR O ÁUDIO EXPLICATIVO QUE ESTÁ DISPONÍVEL EM NOSSO GRUPO PARA REALIZAR AS ATIVIDADES.
O QUE VOCÊ VAI ESTUDAR:	- SÍLABAS - SISTEMA MONETÁRIO - LETRA FALTOSA - EM CIMA E EMBAIXO
PARA QUE VAMOS ESTUDAR ESSES CONTEÚDOS?	- IDENTIFICAR O USO CORRETO DAS LETRAS COM AS PALAVRAS SUGERIDAS - RECONHECER QUAIS SÃO AS ORDENS NÚMERICAS - <i>COMPREENDER A ATENÇÃO E A HABILIDADE MANUAL</i> - DESENVOLVER A COORDENAÇÃO MOTORA E VISUAL.
ATIVIDADE PARA REALIZAR ESSA ATIVIDADE VOCÊ PRECISARÁ DE ALGUNS MATERIAIS:	AS ATIVIDADES SERÃO REALIZADAS COM MATERIAL IMPRESSO, PROPOSTOS NOS ROTEIROS ENVIADOS PARA OS ALUNOS.



SÍLABAS

Junte as sílabas e forme as palavras

CA + VA + LO _____

CA + SA _____

CU + E + CA _____

CA + BE + LO _____

CU + BO _____

CO + PO _____

CU + CA _____



SISTEMA MONETÁRIO

Vamos comprar? É isto que iremos fazer nesta atividade, temos brinquedos com seus valores e o dinheiro que demos na hora de pagar, vocês irão fazer a conta para descobrir quanto iremos receber na hora do troco.

 <p>URSO Valor: R\$ 12,00 Pagou  Troco: _____</p>	<p>_____ Valor: R\$ 7,00 Pagou  Troco: _____</p> 
<p>_____ Valor: R\$ 4,00 Pagou  Troco: _____</p> 	<p>_____ Valor: R\$ 23,00 Pagou  Troco: _____</p> 
<p>_____ Valor: R\$ 17,00 Pagou  Troco: _____</p> 	<p>_____ Valor: R\$ 3,00 Pagou  Troco: _____</p> 
<p>_____ Valor: R\$ 38,00 Pagou  Troco: _____</p> 	<p>_____ Valor: R\$ 14,00 Pagou  Troco: _____</p> 



LETRA FALTOSA

1- COMPLETE O QUADRO COM AS LETRAS FALTOSAS E DEIXE A CASA BEM COLORIDA.

2- PINTO NO QUADRO, AS VOGAIS DE AMARELO E AS CONSOANTES DE AZUL.

C	A	S	A
	A		A
C		S	

3- OBSERVE O QUADRO E RESPONDA:



LETRA INICIAL



LETRA FINAL



TOTAL DE LETRAS



VOGAIS



CONSOANTES



SÍLABAS



EMBAIXO E EM CIMA

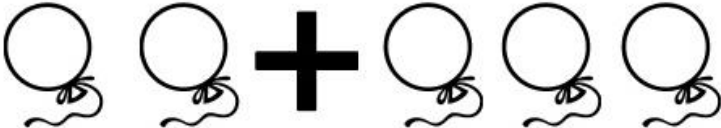

Pinte de **MARROM** o que está **EMBAIXO** da mesa e de **COLORIDO** o que está **EM CIMA** dela







JUNTANDO TUDO



Complete as operações matemáticas e em seguida preencha a quantidade de bolinhas correspondente à soma:

 +  =



● ● ● ● ● ○ ○ ○ ○ ○

 +  =



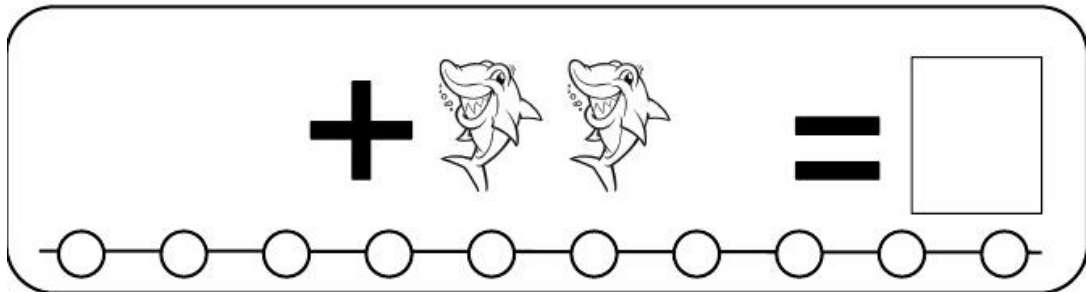
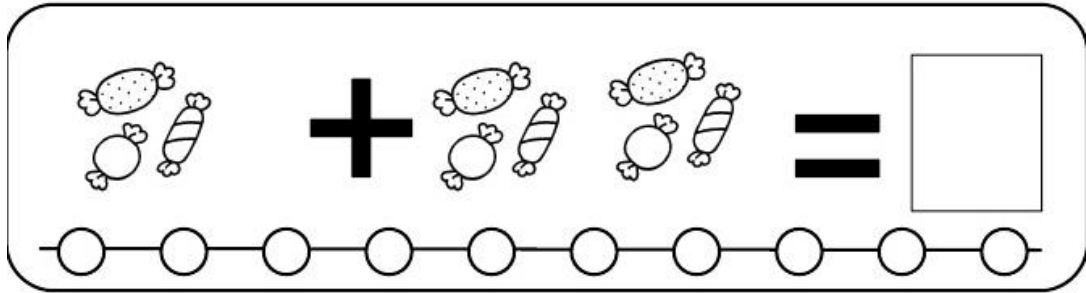

○ ○ ○ ○ ○ ○ ○ ○ ○ ○ ○

 +  =

○ ○ ○ ○ ○ ○ ○ ○ ○ ○ ○

 +  =

○ ○ ○ ○ ○ ○ ○ ○ ○ ○ ○





QUANTIDADE NUMÉRICA

Colorir os círculos de acordo com o número de elementos de cada conjunto e escrever o algarismo que os representa:

